

**ШКОЛЬНЫЙ ЭТАП
ВСЕРОССИЙСКОЙ ОЛИМПИАДЫ ШКОЛЬНИКОВ
ПО ГЕОГРАФИИ**

МО «Зеленоградский муниципальный округ Калининградской области»

2023-2024 учебный год

8 КЛАСС

Время проведения -90 мин

Итого 62 балла

Тестовый раунд. За каждый правильный ответ -1 балл, всего 15 баллов

Тест - 14б, Аналитический раунд - 41 Итого: 55.

1. В данном ряду из пяти географических объектов лишний объект -Муррей.

Амазонка – Хуанхэ – Дунай – Муррей – Замбези.

Из предложенных вариантов выберите верное обоснование своего ответа

А) Это самые длинные реки в своих частях света, а выбранная таковой не является.

Б) Все реки относятся к бассейну стока Атлантического океана, а эта – к бассейну стока Индийского океана.

В) Эта река находится в умеренном климатическом поясе, а все остальные – в тропическом.

Г) На этой реке нет ни одной столицы страны, в отличие от других, на берегах которых есть столицы.

Д) Эта река течёт с востока на запад, а все остальные – с запада на восток.

2. Какому азимуту соответствует направление на юго-запад?

А) 135°; **Б) 225°;** В) 45°; Г) 315°.

3. Какое утверждение о движении воздушных масс является верным:

А) Бризы меняют свое направление дважды в год;

Б) В тропических широтах господствуют западные ветры;

В) Летом муссоны дуют с океана на материк;

Г) В умеренных широтах господствуют пассаты

4. Укажите физико-географический объект с максимальной плотностью проживающего населения:

А) Амазонская низменность; Б) Восточно-Европейская равнина;

В) Западно-Сибирская равнина; **Г) Великая Китайская равнина**

5. Укажите верное соотношение, в котором указан физико-географический объект, и государство, к которому он относится:

А) Апеннинский полуостров – Испания; Б) Пиренейский полуостров – Италия;

В) полуостров Лабрадор – США; **Г) полуостров Калифорния – Мексика.**

6. На каком из рисунков изображены горы, образованные в более древнее время:

А



Б



7. Какие два геологических периода новейшие?

15 А) девонский; Б) меловой; В) неогеновый; Г) кембрийский; Д) силурийский

8. Названия каких стран совпадают со столицами?

15 1) Панама; 2) Сомали; 3) Эквадор; 4) Алжир; 5) Суринам; 6) Лесото; 7) Гватемала

9. Какова протяженность материка Евразия с запада на восток в градусах, если долгота самой западной точки материка 9° з.д., а самой восточной - 170° з.д.?

0 А) 161° ; Б) 179° ; В) 199° ; Г) 189° .

10. В каком море нельзя утонуть?

15 А) в Красном Б) Мертвом В) Аральском

11. К бассейну какого океана относится река Неман?

15 А) Индийского Б) Атлантического В) Северного Ледовитого Г) Тихого

12. Чем, прежде всего, знаменита Куршская коса? Выберите два правильных ответа

А) Только здесь в Калининградской области водится пятнистый олень

15 Б) Дюнные комплексы достигают высоты 40-50 метров

В) Здесь проходит старая железная дорога, чей возраст превышает 200 лет

Г) Через косу проходит миграционный путь птиц

13. Средняя солёность поверхностных вод Средиземного моря составляет 38%. Определите, сколько граммов солей растворено в двух литрах его воды. 76 г

14. Определите примерную высоту горы, если известно, что у ее подножия температура воздуха составила $+16^\circ\text{C}$, а на ее вершине -8°C :

15 А) 1,3 км; Б) 4 км; В) 24 км; Г) 400 м

15. Почему в Балтийском море низкая солёность воды. Выберите два правильных ответа

15 А) в море впадает много рек, опресняющих морскую воду

Б) на дне моря много глубоких впадин, в которых накапливается соль

В) климатические особенности (достаточное количество осадков и низкий коэффициент испарения)

Г) из морской воды Балтийского моря добывают соль, после удаления опресненную воду сбрасывают обратно в водоем

Аналитический раунд 47 баллов

Задание № 1 (максимальный балл – 11)

95

Определите по фотографиям понятия и объекты, относящиеся к территории страны-соседки России. Дайте названия фотографиям, определив то, что они изображают, и к каждой подберите соответствующий комментарий (1–5). Ответьте на вопрос в конце задания..

Комментарии к фотографиям

1. Географический объект, расположенный в котловине, являющейся трансграничным объектом Всемирного природного наследия ЮНЕСКО.
2. Переносное каркасное жилище с войлочным покрытием у кочевых народов.
3. Горная система на территории 3-х стран Азии, высшая точка которой расположена в нашей стране.
4. Одна из крупнейших аридных территорий мира, «палеонтологический музей» под открытым небом.
5. Безлесная природная зона с преобладанием травянистой растительности

А)




Термин	Номер комментария
Юрта	2

Б)



Термин	Номер комментария
степь	5

В)



05

Термин	Номер комментария
<i>впадины</i>	<i>1</i>

Г)



25

Термин	Номер комментария
<i>горы Алтай</i>	<i>3</i>

Д)



25

Термин	Номер комментария
<i>пустыня Гоби</i>	<i>4</i>

15

Как называется страна, которой посвящены все фотографии?

Монголия



Задание № 2 (максимальный балл – 3) **35**

Как вы думаете, почему рыбаки на побережье Белого моря ставят рыбачьи сети строго по часам?

На побережье Белого моря наблюдаются приливы и отливы, через 6 часов во время приливов рыбаки ставят сети

Задание № 3 (максимальный балл – 4) **48**

Название - 1 балл, регион-1 балл



Голубициный лес Камчатской области

А) Название леса . В каком регионе нашей страны произрастает?

Б) Где можно увидеть такое явление- в нашей стране?
на полуострове Камчатка, гейзеры

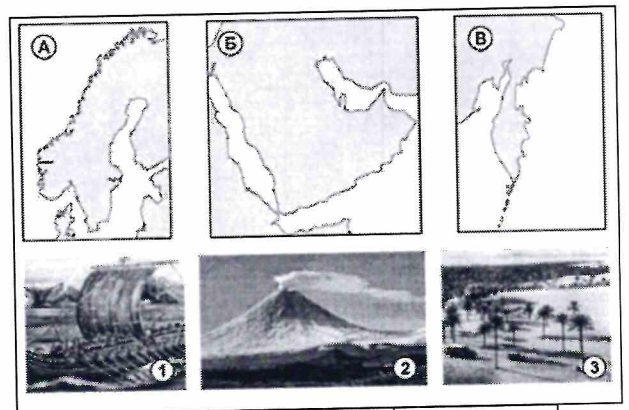
Задание № 4 (максимальный балл –3) **35**

Почему зимой и поздней осенью небо на горизонте над лесом бывает гораздо темнее, чем над полем?
Снег над полем отражает солнечные лучи в атмосферу, лес поглощает солнечные лучи т.к. он темнее снега

Задание 5. (максимальный балл –6) **68**

. Определите по рисунку, какие географические объекты обозначены буквами. Выпишите эти названия в столбик. Определите названия полуостровов, указанных на карте буквами. Установите соответствие между полуостровами и иллюстрацией, изображающей особенности его природы.

А. Скандинавский



А	Б	В
1	3	2

Б. Аравийский

В. Камчатка



Бланк ответа на задание 6

168

Таблица 1

№	Вопрос	Ответ	
1.	Какая максимальная обозначенная абсолютная высота фиксируется на фрагменте топографической карты?	349,2 м	18
2.	Какие гидрографические объекты присутствуют на карте?	1. Родник 0,5 2. Река 0,5 3. Колодезь 0,5 4. Болото 0,5 5.	28
3.	В каком направлении протекает река Сиверка на участке, обозначенном цифрой 1?	С-З	18
4.	Какие объекты социальной инфраструктуры (сферы обслуживания) можно найти в пос. Тугарино?	Школа 0,5 Больница 0,5	18
5.	Какой элемент антропогенного рельефа обозначен цифрой 2?		08
6.	Что означает отметка +1,4 у предыдущего объекта?	Высота в м.	18
7.	Какой объект обозначен цифрой 3?		
8.	Через какой высотный промежуток проведены сплошные горизонталы на карте?	5 м.	28
9.	Сможет ли преодолеть вброд реку Сиверка внедорожник, рассчитанный на преодоление водных преград глубиной до 1,5? Объясните, почему Вы так решили.	да, потому что глубина реки 1,2 м	38
10.	К какой природной зоне относится местность, изображенная на представленном фрагменте топографической карты? Почему Вы так считаете? Постарайтесь привести два довода.	Природная зона: <u>лесостепь</u> Обоснование:	28
11.	Разъедутся ли два транспортных средства, шириной по 3,7 м каждое, на шоссе, обозначенном 8(12)Б? Свой ответ объясните.	да, т.к. ширина шоссе 8 м, а ширина транспортных средств 7,4 м (3,7 * 2)	38

Максимальное количество баллов – 20

